

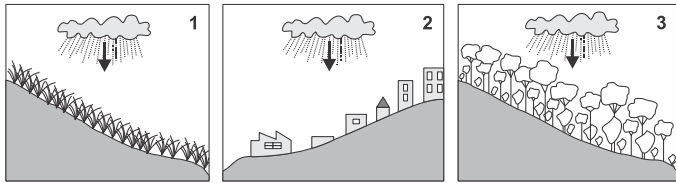
GEOGRAFIA – GIGIO

01. A Política Estadual de Recursos Hídricos, a partir de 1991, determina, para o Estado de São Paulo, a Bacia Hidrográfica como unidade físico-territorial de planejamento, tendo os Comitês de Bacias como os órgãos gestores. Considerando esta afirmação, responda:

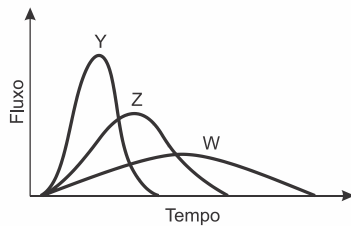
- a) O que é uma bacia hidrográfica? Que elementos topográficos compõem uma bacia?
- b) Aponte dois tipos de conflitos de uso da água numa unidade de bacia hidrográfica.

02. As figuras representam um mesmo evento chuvoso em três bacias hidrográficas semelhantes e próximas, mas em diferentes situações de cobertura vegetal e de uso da terra.

O gráfico representa o comportamento da vazão dos rios de cada uma das três bacias, após esse mesmo evento chuvoso.



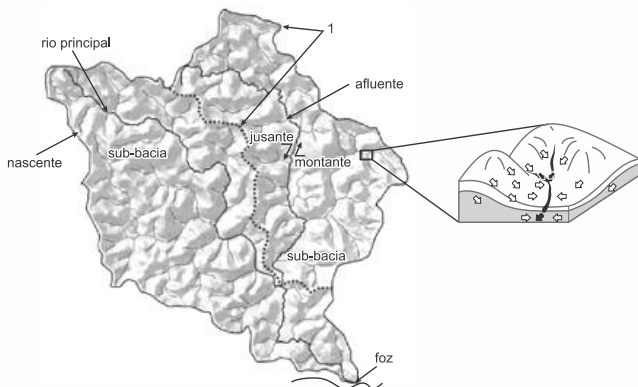
COMPORTAMENTO DA VAZÃO DOS TRÊS RIOS



<http://www.metted.ucar.edu/hydro/>. Adaptado.

Qual o número da bacia hidrográfica que corresponde a cada uma das três curvas de comportamento da vazão apresentadas no gráfico: Y, Z e W.

03. A imagem reúne alguns dos principais elementos de uma bacia hidrográfica. Identifique a feição apontada pelo número 1 e explique a dinâmica apresentada na ampliação. Considerando as partes de um rio, defina jusante e montante.



(Pedro J. O. Machado e Fillipe T. P. Torres, *Introdução à hidrogeografia*, 2012. Adaptado. Ana L. C. Netto, "Hidrologia de encosta na interface com a geomorfologia". In: Antonio J. T. Guerra e Sandra B. Cunha, *Geomorfologia*, 2012. Adaptado.)

04. "Sabe-se que existe, em toda crise, a emersão de processos que antes permaneciam ocultos por controles institucionais. Algumas identidades sociais não se afirmavam no espaço público quando formas de identificação, mais

facilmente aceitas, ocupavam a cena política. A crise, ao destruir certezas, pode encadear outras práticas, possibilitando que identidades antes secundárias orientem a defesa de bandeiras de luta aparentemente ultrapassadas ou, até mesmo, mortas. Exemplificam esta possibilidade os movimentos negro e indígena, na América Latina, e os contextos sociais em que se trava, hoje, a luta em torno do trabalho, envolvendo os desafios da economia popular".

(Ana Clara Torres Ribeiro, "Leituras de movimentos: conjuntura, ação e poder", em *Por uma sociologia do presente: ação técnica e espaço*. Rio de Janeiro: Letra Capital, 2013, p. 202.)

a) A luta dos movimentos indígenas na América Latina resultou, em boa medida, em avanços políticos significativos. Que contexto social permitiu a eleição do Presidente Evo Morales na Bolívia?

b) Que contexto econômico-social Latino-americano atual tem movido lutas em torno da constituição de economias populares, mais solidárias e menos excludentes?

05. Eua sob ataque

[...]

11 de setembro

Dez anos em uma nova rota

O mundo não foi mais o mesmo desde o 11 de setembro de 2001: o mais espetacular atentado suicida de todos os tempos matou 2.976 pessoas. O ataque coordenado, há exatos dez anos, foi lançado contra Nova York, capital financeira dos EUA, e Washington, centro do poder político e militar do país. Naquele mesmo dia, inesquecível para qualquer pessoa "conectada" com as notícias do mundo, soube-se que a História ganhava, então, novos rumos.

(EUA SOB ATAQUE. A Gazeta, Vitória, 11 de setembro de 2011, MUNDO, p. 46.

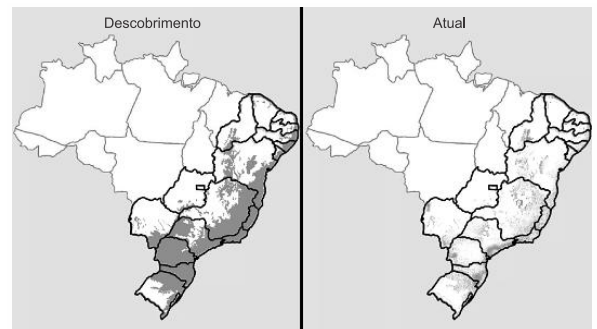
Um dos principais discursos veiculados na era da globalização é o de que vivemos num mundo sem fronteiras, a chamada aldeia global. Explique uma consequência, para o mundo globalizado, dos atentados de 11 de setembro de 2001, relativa a cada um dos seguintes aspectos:

- a) político-econômico;
- b) cultural.

06. Observe o mapa:

Estudo aponta que desmatamento da Mata Atlântica aumentou cerca de 60% em um ano.

Entre 2015 e 2016, cerca de 290 quilômetros quadrados de floresta foram devastados, o que significa um aumento de 57,7%, se comparado com os anos anteriores.



Atualmente restam cerca de 12% da área original da Mata Atlântica (Foto: Arte EPTV)

A Mata Atlântica percorre importantes regiões hidrográficas brasileiras. Suas florestas são fundamentais para a manutenção dos processos hidrológicos garantindo a quantidade e a qualidade da água potável para milhões de brasileiros e para os diferentes setores da economia nacional.

<http://g1.globo.com/sp/campinas-regiao/terra-da-gente/especiais/noticia/estudo-aponta-que-desmatamento-da-mata-atlantica-aumentou-cerca-de-60-em-um-ano.html>

Tendo por base o mapa, as informações citadas e seus conhecimentos, identifique, a seguir, a alternativa que apresente, apenas, regiões hidrográficas com ocorrências de Mata Atlântica.

- a) Região Hidrográfica do Uruguai; Região Hidrográfica do Tocantins; Região Hidrográfica do Atlântico Nordeste Ocidental.
- b) Região Hidrográfica Atlântico Sul; Região Hidrográfica do Paraná; Região Hidrográfica do Atlântico Leste.
- c) Região Hidrográfica Amazônica; Região Hidrográfica do Tocantins; Região Hidrográfica do Parnaíba.
- d) Região Hidrográfica do Uruguai; Região Hidrográfica do Atlântico Nordeste Ocidental; Região Hidrográfica Amazônica.
- e) Região Hidrográfica do Paraguai; Região Hidrográfica Amazônica; Região Hidrográfica do Piauí.

07. Atualmente, a maior parte das espécies ameaçadas da fauna brasileira, sejam elas aquáticas ou terrestres, estão em situação de risco por causa da perda do habitat florestal. "São 1.051 espécies ameaçadas. Todas estão assim em função do desmatamento", afirmou a coordenadora de Avaliação do Estado de Conservação da Biodiversidade (Coabio/ICMBio), Rosana Subirá.

Fonte: <http://www.brasil.gov.br/meio-ambiente/2014/07>



Sobre os principais prejuízos ambientais, decorrentes do desmatamento em áreas tropicais, analise os itens a seguir:

- 1. Degradação dos mananciais
- 2. Perda da biodiversidade
- 3. Alteração pluviométrica
- 4. Diminuição da quantidade de carbono
- 5. Aumento do efeito estufa
- 6. Acréscimo dos valores da umidade relativa do ar

Estão CORRETOS, apenas,

- a) 1, 4 e 5.
- b) 2, 3 e 4.
- c) 1, 2, 3 e 5.
- d) 3, 4, 5 e 6.
- e) 1, 2, 4, 5 e 6.

08. Mata de terra firme, mata de várzea e igapó são formações vegetais típicas deste bioma. Em razão do processo de uso e ocupação do território brasileiro e das ações dirigidas à preservação dos recursos naturais realizadas nas últimas décadas, este bioma constitui-se também naquele que guarda as maiores extensões de floresta nativa no Brasil, ainda que seu desmatamento não tenha sido completamente cessado.

O texto refere-se ao bioma

- a) Cerrado.
- b) Mata Atlântica.
- c) Pampa.
- d) Caatinga.
- e) Amazônico.

09. Se a exploração descontrolada e predatória de madeira verificada atualmente continuar por mais alguns anos, pode-se antecipar a extinção de diversas espécies de árvores nativas da floresta amazônica. Tal espécie de vegetação já desapareceu de extensas áreas do Pará, de Mato Grosso, de

Rondônia, e há indícios de que a diversidade e o número de indivíduos existentes podem não ser suficientes para garantir a sustentabilidade de trechos da floresta. A diversidade é um elemento fundamental na sobrevivência de qualquer ecossistema. Com relação ao problema descrito no texto, assinale a alternativa correta.

- a) O desinteresse do mercado madeireiro internacional pela madeira contribuiu para a redução da exploração predatória de diversas espécies de árvores da floresta amazônica.
- b) O surgimento de áreas destinadas à pastagem de animais contribuiu para a redução do ritmo de desmatamento da floresta amazônica.
- c) As causas naturais decorrentes das mudanças climáticas globais contribuem mais para a extinção das árvores da floresta do que a interferência humana.
- d) A extração predatória de madeira pode reduzir o número de espécies de árvores nativas da floresta amazônica e prejudicar sua diversidade genética.
- e) A redução do número de árvores ocorre na mesma medida em que aumenta a diversidade biológica da floresta região amazônica.

10. Cada vez mais pessoas fogem da guerra, do terror e da miséria econômica que assolam algumas nações do Oriente Médio e da África. Elas arriscam suas vidas para chegar à Europa. Segundo estimativas da Agência da ONU para Refugiados, até novembro de 2015, mais de 850 mil refugiados e imigrantes haviam chegado por mar à Europa naquele ano.

Garton Ash, Timothy. *Europa e a volta dos muros*. O Estado de S. Paulo, 29/11/2015. Adaptado.

Sobre a questão dos refugiados, no final de 2015, considere as três afirmações seguintes:

- I. A criação de fronteiras políticas no continente africano, resultantes da partilha colonial, incrementou os conflitos étnicos, corroborando o elevado número de refugiados, como nos casos do Sudão e Sudão do Sul.
- II. Além das mortes em conflito armado, da intensificação da pobreza e da insegurança alimentar, a guerra civil na Síria levou um contingente expressivo de refugiados para a Europa.
- III. A política do apartheid teve grande influência na Nigéria, país de origem do maior número de refugiados do continente africano, em decorrência desse movimento separatista.

Está correto o que se afirma em

- a) I, apenas.
- b) I e II, apenas.
- c) III, apenas.
- d) II e III, apenas.
- e) I, II e III.

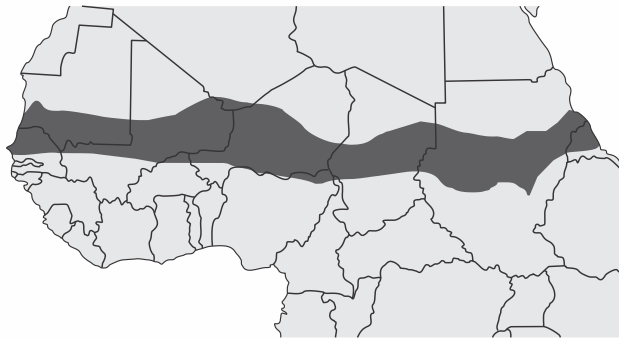
11. O primeiro império da África subsaariana sobre o qual se tem notícias mais precisas é o Mali. Nele, Tombuctu, Jené e Gaô foram importantes cidades, centros de trocas e de concentração de pessoas, graças à rede de rios que fertilizava as terras e facilitava o transporte na região da curva do Níger. Vestígios arqueológicos apontam que, desde cerca dos anos 800 da nossa era, havia, ali, cidades e formas de comércio.

SOUZA, Marina de Mello e. *África e Brasil africano*. São Paulo: Ática, 2006, p. 34. Adaptado.

Com base no texto e nos conhecimentos sobre a história dos povos africanos é correto afirmar que a sociedade do império do Mali caracterizava-se por ser

- a) urbana e rural, tendo o comércio fluvial como uma de suas atividades principais além das caravanas nas rotas do Saara.
- b) rural, essencialmente, tendo a agricultura coletiva como principal meio de subsistência.
- c) militarizada, tendo a guerra como principal meio de sobrevivência de sua população.
- d) tribal, visto que os povos africanos ainda não tinham alcançado o estágio civilizatório avançado.
- e) marítima, sobrevivendo da pesca da baleia como a maioria dos povos africanos.

12.



Fonte do mapa <http://crisisgroup.org/africa>

A respeito da área destacada no mapa da África Setentrional, julgue as afirmações a seguir:

- I. Corresponde à região do Sahel. Apresenta baixos níveis pluviométricos anuais e vegetações típicas de Estepes.
- II. Essa extensa faixa territorial enfrenta conflitos tribais históricos e pobreza extrema. As populações locais dedicam-se à economia primário-extrativista e agropecuária de subsistência.
- III. Atualmente passa por um processo de desertificação devido ao mau uso do solo, prolongadas estiagens e ao intenso desmatamento.
- IV. Nas últimas décadas, é possível verificar considerável recuperação nos índices de Desenvolvimento Humano nos países que compõem o Chifre da África como: Etiópia, Somália, Chade, Gabão, Malauí e Djibuti.

Estão corretas

- a) I e II, apenas.
- b) II e III, apenas.
- c) III e IV, apenas.
- d) I, II e III, apenas.
- e) I, II, III e IV.

TEXTO PARA A PRÓXIMA QUESTÃO:

Observe a imagem e leia o texto, para responder à(s) questão(ões).



Amoreira africana.
<https://www.google.com.br>

O Comissário apertou-lhe mais a mão, querendo transmitir-lhe o sopro de vida. Mas a vida de Sem Medo esvaía-se para o solo do Mayombe, misturando-se às folhas em decomposição.

[...]

Mas o Comissário não ouviu o que o Comandante disse. Os lábios já mal se moviam.

A amoreira gigante à sua frente. O tronco destaca-se do sincretismo da mata, mas se eu percorrer com os olhos o tronco para cima, a folhagem dele mistura-se à folhagem geral e é de novo o sincretismo. Só o tronco se destaca, se individualiza. Tal é o Mayombe, os gigantes só o são em parte, ao nível do tronco, o resto confunde-se na massa. Tal o homem. As impressões visuais são menos nítidas e a mancha verde predominante faz esbater progressivamente a claridade

do tronco da amoreira gigante. As manchas verdes são cada vez mais sobrepostas, mas, num sobressalto, o tronco da amoreira ainda se afirma, debatendo-se. Tal é a vida.

[...]

Os olhos de Sem Medo ficaram abertos, contemplando o tronco já invisível do gigante que para sempre desaparecera no seu elemento verde.

Pepetela, Mayombe.

13. *Mayombe* refere-se a uma região montanhosa em Angola, dominada por floresta pluvial densa, rica em árvores de grande porte, e localizada em área de baixa latitude (4°40'S).

Levando em conta essas características geográficas e vegetacionais, é correto afirmar que

- a) esse tipo de vegetação predomina na maior parte do continente africano, circundando áreas de savana e deserto.
- b) se trata da única floresta pluvial sobre áreas montanhosas, pois esse tipo de floresta não ocorre em outras áreas do mundo.
- c) a vegetação da região é semelhante à da floresta encontrada, no Brasil, na mesma faixa latitudinal.
- d) nessa mesma faixa latitudinal, no Brasil, há regiões áridas, de altas altitudes, em que predominam ervas rasteiras.
- e) tais florestas pluviais só ocorrem no hemisfério sul, devido ao regime de chuvas e às altas temperaturas nesse hemisfério, onde ocupam todo tipo de relevo.